

Circuits combinatoires et logique booléenne

Thèmes architectures matérielles et types de données de base

Première NSI Lycée du Parc

Table des matières

Crédits	1
Préambule	1
1 Portes logiques	2
1.1 Le transistor porte logique de base	2
1.2 D'autres portes logiques	4
1.2.1 Transistors en série ou en parallèle	4
1.2.2 Portes logiques et fonctions logiques élémentaires	5
2 Fonctions booléennes	8
2.1 Fonctions booléennes	8
2.2 QCM types E3C	10
2.3 Pour aller plus loin (hors programme de première NSI)	12
2.3.1 Dresser la table de vérité d'une fonction booléenne	12
2.3.2 Exprimer une fonction booléenne à partir de sa table de vérité	13
3 Circuits combinatoires	13
3.1 Définition	13
3.2 Décodeur avec 2 bits d'entrées	14
3.3 Demi-additionneur et additionneur 1 bit	15
4 Opérations bit à bit en Python (hors programme de première NSI)	17

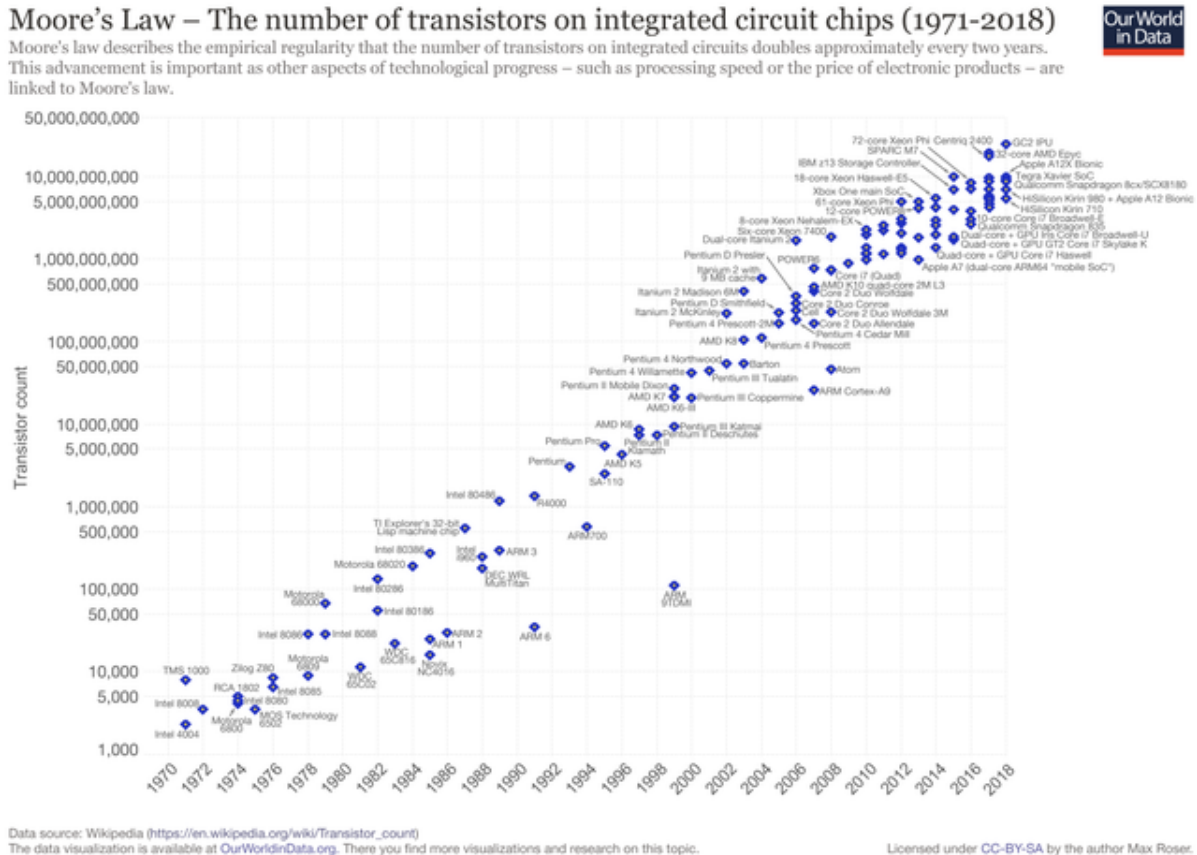
Crédits

Ce cours est largement inspiré du chapitre 22 du manuel NSI de la collection Tortue chez Ellipsen auteurs : Ballabonski, Conchon, Filliatre, N'Guyen.

Préambule

Les circuits d'un ordinateur manipulent uniquement des 0 ou des 1 représentés en interne par des tensions hautes ou basses. Les premiers ordinateurs construits dans la période 1945-1950 sont basés sur une technologie de tube à vide ou tube électrique. En 1947, aux laboratoires Bell, [Shockley](#), [Bardeen](#) et

Brattain inventent le **transistor** au *germanium* un petit composant électronique qui se comporte comme un interrupteur. Les transistors, plus petits et dissipant moins de chaleur, vont supplanter les tubes électriques : en 1954 le *germanium* est remplacé par le *silicium*, en 1955 apparaissent les premiers ordinateurs entièrement transistorisés, en 1960 le transistor à effet de champ permet l'intégration de dizaines composants dans un centimètre carré. Les transistors sont ensuite directement gravés dans une plaque de *silicium* constituant un **circuit intégré**. En 1965 Gordon Moore futur directeur d'Intel énonce la **loi empirique** portant son nom qui fixe une feuille de route à l'industrie des microprocesseurs : le doublement de la densité d'intégration des transistors tous les deux ans. Cette loi s'est vérifiée jusqu'à présent avec une finesse de gravure d'environ 5 nanomètres en 2020. Le **graphique** ci-dessous représente l'évolution du nombre de transistors par circuit intégré.



1 Portes logiques

1.1 Le transistor porte logique de base



Définition 1

Un **transistor** possède trois broches : la grille, la sortie (ou drain) et la source soumis à des états de tension haute ou basse qu'on peut assimiler aux valeurs binaires 1 et 0 d'un **bit**. Si la tension appliquée sur la grille est haute (bit à 1) alors le transistor laisse passer le courant entre la source d'énergie et la

sortie et cette dernière passe à l'état de tension basse (bit à 0), sinon la sortie reste en tension haute (bit 1).

Une **fonction logique** prend un ou plusieurs bits en entrée et retourne un ou plusieurs bits en sortie. Une **porte logique** est un circuit électronique représentant une **fonction logique**.

Une **table logique** représente les sorties produites par une fonction logique pour toutes les entrées possibles.

Un transistor représente une fonction logique dont le bit d'entrée est l'état de tension de la grille et le bit de sortie, l'état de tension de la sortie. La **table logique** (table 1) associée est celle du **NON logique** ou **Inverseur**.

Fichier de test Logisim : [transistor.circ](#).

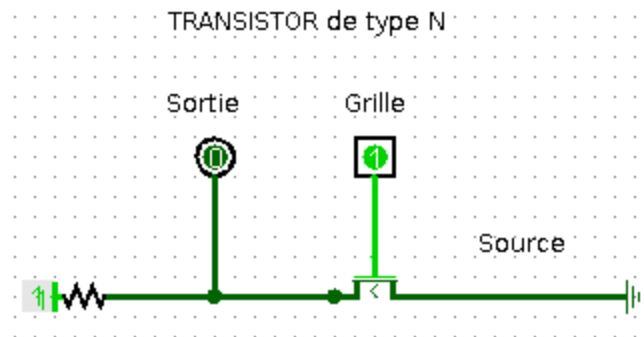
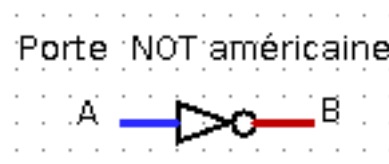
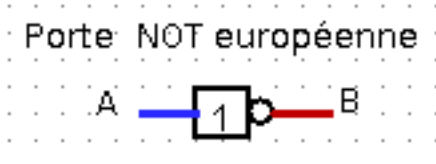


Table 1: **Table logique d'une porte NON**

A	B = NON(A)
0	1
1	0

Il existe deux conventions de représentation symbolique des portes logiques, une européenne et une américaine.



Tutoriel video Logisim : [le transistor](#)

1.2 D'autres portes logiques

1.2.1 Transistors en série ou en parallèle



Exercice 1

On donne ci-dessous les représentations de deux portes logiques :

- La **porte NAND** constituée de deux transistors en série
- La **porte NOR** constituée de deux transistors en parallèle

Chacune de ces portes logiques comportent deux bits d'entrée : A pour la grille du transistor 1 et B pour la grille du transistor 2 et un bit de sortie.

Compléter leurs tables logiques.

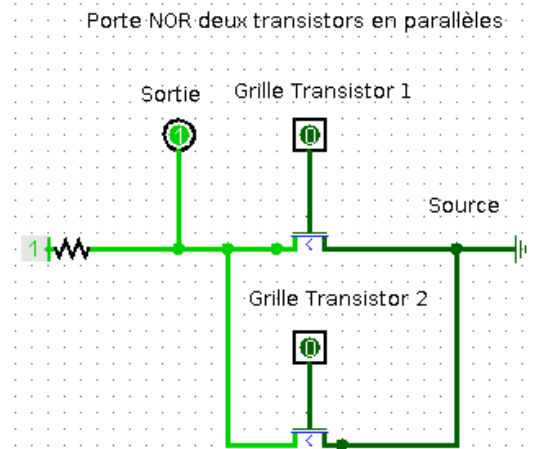
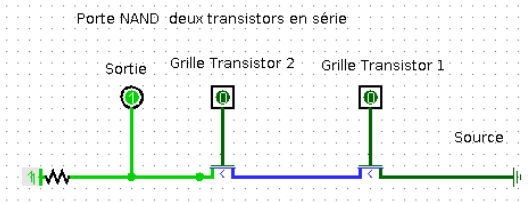
Vérifier avec [Logisim](#) et les fichiers [porte_NAND.circ](#) et [porte_NOR.circ](#).

[Tutoriel video Logisim : porte NAND](#)

[Tutoriel video Logisim : porte NOR](#)

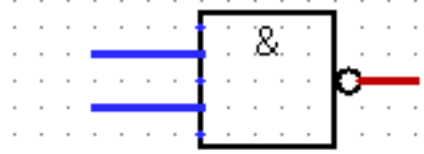
A	B	NAND(A, B)
0	0	
0	1	
1	0	
1	1	

A	B	NOR(A, B)
0	0	
0	1	
1	0	
1	1	

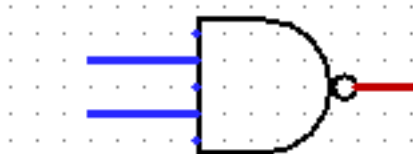


Voici les représentations symboliques des portes logiques NAND et NOR :

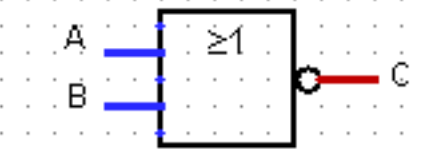
Porte NAND européenne



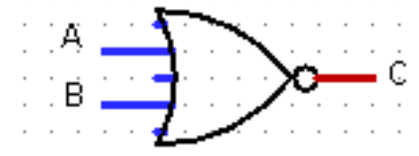
Porte NAND américaine



Porte NOR européenne



Porte NOR américaine

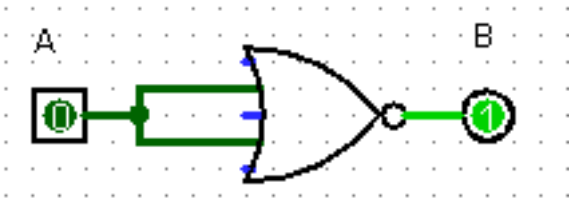


1.2.2 Portes logiques et fonctions logiques élémentaires

Exercice 2

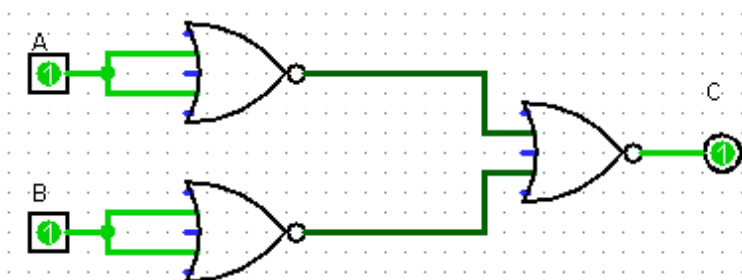
Fichier de test Logisim : [exercice2.circ](#).

1. Compléter la table logique de la porte logique représentée par le circuit ci-dessous. Quelle porte logique peut-on ainsi représenter ?



A	B = f(A)
0	
1	

2. Compléter la table logique de la porte logique représentée par le circuit ci-dessous. Quelle fonction logique correspond à cette porte logique ?



A	B	C = g(A, B)
0	0	
0	1	
1	0	
1	1	

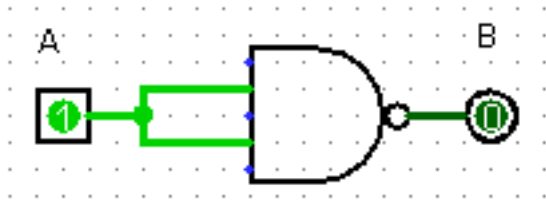
Tutoriel video Logisim : exercice 2



Exercice 3

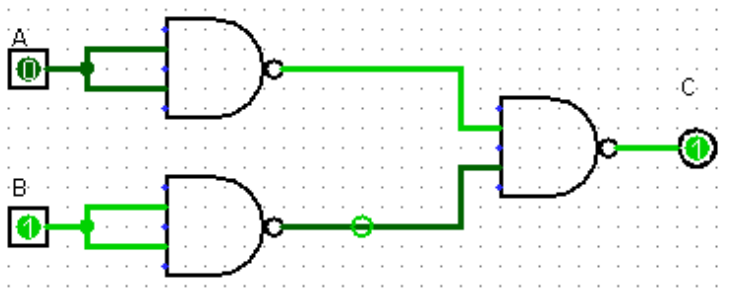
Fichier de test Logisim : [exercice3.circ](#).

1. Compléter la table logique de la porte logique représentée par le circuit ci-dessous. Quelle porte logique peut-on ainsi représenter ?



A	B = f(A)
0	
1	

2. Compléter la table logique de la porte logique représentée par le circuit ci-dessous. Quelle fonction logique correspond à cette porte logique ?

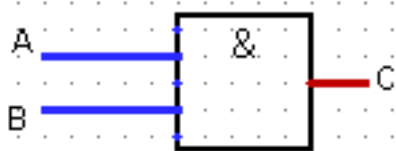


A	B	C = g(A, B)
0	0	
0	1	
1	0	
1	1	

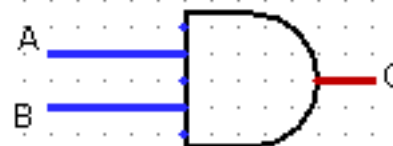
[Tutoriel video Logisim : exercice 3](#)

Voici les représentations symboliques des portes logiques AND et OR :

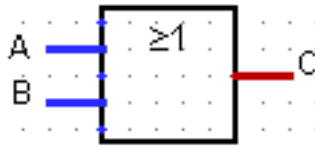
Porte AND européenne



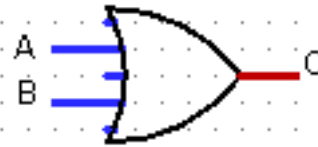
Porte AND américaine



Porte OR européenne



Porte OR américaine



Exercice 4

1. Construire un circuit représentant une porte OR uniquement avec des portes NOR.
2. Construire un circuit représentant une porte AND uniquement avec des portes NAND.

Ainsi chacune des portes, NAND ou NOR permet de construire les portes NOT, OR, AND. Toute porte logique pouvant s'exprimer à l'aide de ces trois portes, les portes NAND et NOR sont dites *universelles*.

Tutoriel video Logisim : [exercice 4](#)

2 Fonctions booléennes

2.1 Fonctions booléennes



Définition 2

- Un **booléen** est un type de données pouvant prendre deux valeurs **True** (Vrai) ou **False** (Faux) qu'on représente numériquement par un **bit** de valeur 1 pour True ou 0 pour False. Electroniquement, les valeurs 1 et 0 se traduisent respectivement par des tensions haute ou basse.
- Une **fonction booléenne** f associe un booléen à un ou plusieurs booléens.
- Une **fonction booléenne** avec n arguments est définie sur un ensemble $\{0; 1\}^n$ à 2^n valeurs et prend ses valeurs dans $\{0; 1\}$ qui a 2 éléments. On peut recenser les 2^n évaluations d'une fonction booléenne à n arguments dans une **table de vérité** qui la définit entièrement. Il existe 2^{2^n} fonctions booléennes à n arguments.
- Une **porte logique** est la représentation sous forme de circuit d'une fonction booléenne et sa **table logique** est la **table de vérité** de cette fonction.



Exercice 5

1. Compléter la fonction Python ci-dessous pour qu'elle affiche la table de vérité d'une fonction booléenne à deux entrées. Expliquer le rôle de la fonction `int`.

```
def table_verite_2bits(fonction):
```



```

print('{:~10}{:~10}{:~15}|'.format('a','b',fonction.__name__+'(a,b
)'))
for a in .....:
    for b in .....:
        print('{:~10}{:~10}{:~15}|'.format(....., .....,
int(fonction(bool(a),bool(b))))))

```

2. Vérifier que les tables de vérité affichées pour les fonctions `bool.__or__`, `bool.__and__` et `bool.__not__` sont correctes.

```

In [4]: table_verite_2bits(bool.__or__)
|  a   |  b   |  __or__(a,b) |
|  1   |  1   |  1           |
|  1   |  0   |  1           |
|  0   |  1   |  1           |
|  0   |  0   |  0           |

```

Tutoriel video : exercice 5



Propriété 1

On peut exprimer toute fonction booléenne à l'aide de trois fonctions booléennes élémentaires :

- La *négation* de x est une fonction à 1 bit d'entrée (unaire) notée $\neg x$ ou \bar{x} .
Si x est un booléen, sa *négation* est `not x` en Python.

x	$\neg x$
0	1
1	0

- La *conjonction* de x et y est une fonction à 2 bits d'entrée (binaire) notée $x \wedge y$ ou $x.y$. Si x et y sont des booléens, leur *conjonction* est x **and** y en Python.

x	y	$x \wedge y$
0	0	
0	1	
1	0	
1	1	

- La *disjonction* de x et y est une fonction à 2 bits d'entrée (binaire) notée $x \vee y$ ou $x + y$. Si x et y sont des booléens, leur *disjonction* est x **or** y en Python.

x	y	$x \vee y$
0	0	
0	1	
1	0	
1	1	



Propriété 2

1. Les fonctions booléennes élémentaires respectent un certain nombre de règles qui permettent de simplifier les expressions booléennes complexes :

- *opérateur involutif* : $\neg(\neg x) = x$ et $\overline{\overline{x}} = x$
- *élément neutre* : $1 \wedge x = x$ et $1.x = x$ ou $0 \vee x = x$ et $0 + x = x$
- *élément absorbant* : $0 \wedge x = 0$ et $0.x = 0$ ou $1 \vee x = x$ et $1 + x = 1$
- *idempotence* : $x \wedge x = x$ et $x.x = x$ ou $x \vee x = x$ et $x + x = x$
- *complément* : $x \wedge (\neg x) = 0$ et $x.(\overline{x}) = 0$ ou $x \vee (\neg x) = 1$ et $x + \overline{x} = 1$
- *commutativité* : $x \wedge y = y \wedge x$ et $x.y = y.x$ ou $x \vee y = y \vee x$ et $x + y = y + x$
- *associativité* : $x \wedge (y \wedge z) = (x \wedge y) \wedge z$ et $x.(y.z) = (x.y).z$ ou $x \vee (y \vee z) = (x \vee y) \vee z$ et $x + (y + z) = (x + y) + z$
- *distributivité* : $x \wedge (y \vee z) = (x \wedge y) \vee (x \wedge z)$ et $x.(y + z) = x.y + x.z$ ou $x \vee (y \wedge z) = (x \vee y) \wedge (x \vee z)$ et $x + (y.z) = (x + y).(x + z)$
- *loi de Morgan* : $\neg(x \wedge y) = \neg x \vee \neg y$ et $\overline{x.y} = \overline{x} + \overline{y}$ ou $\neg(x \vee y) = \neg x \wedge \neg y$ et $\overline{x + y} = \overline{x}.\overline{y}$

2. Les fonctions booléennes élémentaire respectent des règles de priorité : la *négation* est prioritaire sur la *conjonction* qui est prioritaire sur la *disjonction*.

Il est recommandé de mettre des parenthèses plutôt que d'appliquer les règles de priorité dans l'écriture des expressions booléennes.

2.2 QCM types E3C



Exercice 6

1. Parmi les quatre expressions suivantes, laquelle s'évalue en True ?
 - Réponse A : `False and (True and False)`
 - Réponse B : `False or (True and False)`
 - Réponse B : `True and (True and False)`
 - Réponse C : `True or (True and False)`
2. Sachant que l'expression `not(a or b)` a la valeur True, quelles peuvent être les valeurs des variables booléennes a et b ?
 - Réponse A : True et True
 - Réponse B : False et True
 - Réponse C : True et False
 - Réponse D : False et False
3. Pour quelles valeurs booléennes des variables a, b et c l'expression `(a or b)and (not c)` a-t-elle pour valeur True
 - Réponse A : a = True b = False c = True
 - Réponse B : a = True b = False c = False
 - Réponse C : a = False b = False c = True
 - Réponse D : a = False b = True c = True
4. Si A et B sont des variables booléennes, laquelle de ces expressions booléennes est équivalente à `(not A) or B` ?
 - Réponse A : `(A and B)or (not A and B)`
 - Réponse B : `(A and B)or (not A and B)or (not A and not B)`
 - Réponse C : `(not A and B)or (not A and not B)`
 - Réponse D : `(A and B)or (not A and not B)`
5. Choisir une expression booléenne pour la variable S qui satisfait la table de vérité suivante.

A	B	S
0	0	1
0	1	0
1	0	1
1	1	1

- **Réponse A** : A ou (non B)
- **Réponse B** : (non A) ou B
- **Réponse C** : (non A) ou (non B)
- **Réponse D** : non (A ou B)

6. On considère une formule booléenne form des variables booléennes a et b dont voici la table de vérité.

a	b	form
True	True	False
False	True	False
True	False	True
False	False	False

Quelle est cette formule booléenne ?

- **Réponse A** : a **and** b
- **Réponse B** : a **or** b
- **Réponse C** : a **and not**(b)
- **Réponse D** : **not**(a) **or** b

[Tutoriel video : exercice 6](#)

2.3 Pour aller plus loin (hors programme de première NSI)

2.3.1 Dresser la table de vérité d'une fonction booléenne



Exercice 7

Démontrer dans chaque cas l'égalité des expressions booléennes en utilisant les deux méthodes suivantes :

- **Méthode 1** : en comparant les tables de vérité des deux expressions booléennes ;
- **Méthode 2** : en utilisant les règles de simplification de la propriété 2.

1. $x + x.y = x$

2. $x + \bar{x}.y = x + y$

3. $x.z + \bar{x}.y + y.z = x.z + \bar{x}.y$

4. $y.(x + \bar{y}) = \bar{x} + \bar{y}$

5. $x.(\bar{x} + \bar{y}).(x + y) = x.\bar{y}$

2.3.2 Exprimer une fonction booléenne à partir de sa table de vérité



Exercice 8

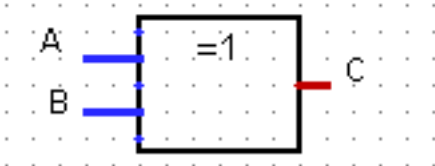
On considère la fonction booléenne dont la table de vérité est :

x	y	$f(x, y)$
0	0	0
0	1	1
1	0	1
1	1	0

1. Exprimer chacune des lignes où la fonction prend la valeur 1 comme la *conjonction* des entrées en remplaçant chaque 1 par la variable qu'il représente et chaque 0 par la négation de la variable. Par exemple le 1 de la deuxième ligne s'écrira $\bar{x}.y$.
2. On peut alors écrire $f(x, y)$ comme la *disjonction* des *formes conjonctives* obtenues à la question précédente. En déduire une expression booléenne de $f(x, y)$.
3. Ouvrir le logiciel [Logisim](#) et construire une porte logique représentant cette fonction booléenne.
4. Cette fonction s'appelle OU EXCLUSIF ou XOR. Ce nom vous paraît-il bien choisi ?

Voici les représentations symboliques de la porte logique XOR :

Porte XOR européenne



Porte XOR américaine



3 Circuits combinatoires

3.1 Définition



Définition 3

Un **circuit logique combinatoire** permet de réaliser une ou plusieurs fonctions booléennes : ses sorties ne dépendent que de l'état actuel de ses entrées. Les portes logiques NOT, NOR, NAND, AND, OR et XOR sont des circuits combinatoires.

Il existe d'autres circuits, dits séquentiels, dont les sorties se calculent non seulement à partir de leurs valeurs d'entrée actuelles mais aussi à partir de leurs états précédents : le facteur temps intervient. Ils utilisent des circuits de mémoire pour mémoriser leurs états antérieurs.

Exercice 9

On considère la fonction booléenne f dont la table de vérité est donnée ci-dessous :

x	y	$f(x, y)$
0	0	1
0	1	0
1	0	0
1	1	1

1. En utilisant la méthode exposée dans l'exercice 8, déterminer une expression booléenne de la fonction f .
2. Ouvrir le logiciel [Logisim](#) et construire un circuit combinatoire représentant cette fonction booléenne :
 - En utilisant les portes logiques NOT, NOR, NAND, AND, OR ou XOR.
 - En n'utilisant que des portes logiques NOT, AND ou OR.
 - En n'utilisant que des portes logiques NOR.

[Tutoriel video : exercice 9](#)

3.2 Décodeur avec 2 bits d'entrées

Exercice 10

On considère un circuit combinatoire qui possède deux entrées e_0 et e_1 et quatre sorties s_0 , s_1 , s_2 et s_3 .

La sortie indexée par le nombre dont le bit de poids faible est e_0 et le bit de poids fort e_1 , est positionnée à 1 et les autres sorties à 0. Ce circuit est ainsi appelé **décodeur 2 bits**.

1. Compléter la table de vérité de ce circuit combinatoire.

e_0	e_1	s_0	s_1	s_2	s_3
0	0				
0	1				
1	0				
1	1				

- En utilisant la méthode exposée dans l'exercice 7, déterminer une expression booléenne de chacune des sorties s_0 , s_1 , s_2 et s_3 , en fonction des entrées e_0 et e_1 .
- Ouvrir le logiciel [Logisim](#) et construire un circuit combinatoire représentant un **décodeur 2 bits**.

3.3 Demi-additionneur et additionneur 1 bit

Exercice 11

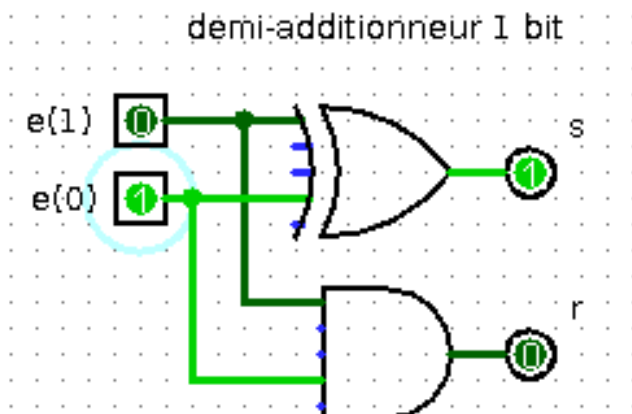
- Effectuer les additions binaires : $0 + 0$, $0 + 1$, $1 + 0$ et $1 + 1$.
- Un **demi-additionneur binaire 1 bit** est un circuit combinatoire qui possède :
 - deux entrées : deux bits d'opérande e_0 et e_1 ;
 - deux sorties : un bit de résultat s et un bit de retenue sortante r .

La sortie s prend pour valeur le bit des unités et la sortie r le bit de retenue sortante, lorsqu'on additionne les deux bits d'entrée e_0 et e_1 .

- Compléter la table de vérité de ce circuit combinatoire :

e_0	e_1	s	r
0	0		
0	1		
1	0		
1	1		

- Justifier qu'un **demi-additionneur binaire 1 bit** peut être représenté par le circuit ci-dessous.



- Ouvrir le logiciel [Logisim](#) et construire un circuit combinatoire représentant un **demi-additionneur binaire 1 bit**.

Tutoriel video : [exercice 11](#)



Exercice 12

Un **additionneur binaire 1 bit** est un circuit combinatoire qui possède :

- trois entrées : deux bits d'opérande e_0 et e_1 et un bit de retenue entrante r_0
- deux bits de sortie : un bit de résultat s_2 et un bit de retenue sortante r_3 .

1. Compléter les colonnes de la table de vérité d'un **additionneur binaire 1 bit** pour le bit de résultat s_2 et le bit retenue sortante r_3 .

e_0	e_1	r_0	$s_1 = \dots\dots$	$r_1 = \dots\dots$	$s_2 = \dots\dots$	$r_2 = \dots\dots$	$r_3 = \dots\dots$
0	0	0					
0	1	0					
1	0	0					
1	1	0					
0	0	1					
0	1	1					
1	0	1					
1	1	1					

2. Un **additionneur binaire 1 bit** peut être réalisé à l'aide de deux **demi-additionneurs binaires 1 bit** :

- Le premier **demi-additionneur binaire 1 bit** prend en entrée les bits d'opérande e_0 et e_1 et retourne en sortie un bit de résultat intermédiaire s_1 et un bit de retenue sortante intermédiaire r_1 . Donner une expression booléenne de s_1 et r_1 en fonction de e_0 et e_1 .
- Le second **demi-additionneur binaire 1 bit** prend en entrée le bit de résultat s_1 et le bit de retenue entrante r_0 et retourne en sortie le bit de résultat final s_2 et un bit de retenue sortante intermédiaire r_2 . Donner une expression booléenne de s_2 et r_2 en fonction de s_1 et r_0 .
- Enfin, la retenue sortante r_3 s'obtient à partir de la retenue sortante r_1 du premier demi-additionneur et de la retenue sortante r_2 du second. Donner une expression booléenne de r_3 en fonction de r_1 et r_2 .

Compléter les colonnes s_1 , r_1 et r_2 puis s_2 et r_3 de la table de vérité de l'**additionneur binaire à 1 bit**.

3. Avec le logiciel [Logisim](#) ouvrir le fichier contenant le demi-additionneur de l'exercice précédent.
 - Ajouter un nouveau circuit avec `Add a circuit`, le nommer `additionneur1bit` puis copier/coller dedans le circuit du **demi-additionneur binaire 1 bit**. Compléter le circuit pour obtenir un **additionneur binaire 1 bit**.
 - Ajouter un nouveau circuit avec `Add a circuit`, le nommer `additionneur2bits` puis copier/coller dedans le circuit de l' **additionneur binaire 1 bit**. Compléter le circuit pour obtenir un **additionneur binaire 2 bits**.

Tutoriel video : [exercice 12](#)

4 Opérations bit à bit en Python (hors programme de première NSI)



Propriété 3

Les fonctions booléennes élémentaires (OR, AND, NOT, XOR) existent en Python sous la forme d'opérateurs booléens mais sont également implémentés sous la forme d'opérateurs bit à bit sur les nombres. Un *opérateur bit à bit* (*bitwise* en anglais) s'applique sur les bits de même poids des représentations binaires de ses opérands.

Opérateur booléen	Opérateur bit à bit	Exemple
<code>and</code> , ET	<code>&</code>	<pre>>>> bin(0b101001 & 0b101010) '0b101000'</pre>
<code>or</code> , OU	<code> </code>	<pre>>>> bin(0b101001 0b101010) '0b101011'</pre>
<code>xor</code> , OU EXCLUSIF	<code>^</code>	<pre>>>> bin(0b101001 ^ 0b101010) '0b000011'</pre>
<code>not</code> , NEGATION	<code>~</code>	<pre>>>> ~5 #~x retourne -x - 1 -6</pre>

Exemples d'utilisation d'opérateurs bit à bit :

- On peut utiliser le ET bit à bit pour sélectionner uniquement certains bits, par exemple les bits de rang pairs :

```
>>> bits_pairs = sum(2 ** k for k in range(0, 8, 2))
>>> bin(bits_pairs)
'0b1010101'
>>> bin(183)
'0b10110111'
>>> bin(183 & bits_pairs)
'0b10100010'
```

- Le OU EXCLUSIF peut servir à masquer / démasquer une partie de la représentation binaire d'un nombre (on peut l'employer avec tout objet codé numériquement comme une image ou un caractère).

```
>>> diego = 69
>>> masque = 42
>>> zorro = diego ^ masque
>>> zorro
111
>>> zorro ^ masque
69
```



Exercice 13

Dans un réseau IP l'adresse IP d'une machine est constituée d'un préfixe correspondant à l'adresse du réseau (commune à toutes les machines du réseau) et à un suffixe machine, identifiant la machine sur le réseau.

Le préfixe réseau s'obtient à partir de l'adresse IP de la machine en faisant un ET bit à bit avec le masque de sous-réseau.

Par exemple si l'adresse est 192.168.11.12 de représentation binaire 11000000.10101000.00001011.00001011 et le masque de sous-réseau est 255.255.252.0 de représentation binaire

11111111.11111111.11111100.00000000 alors le préfixe réseau est 11000000.10101000.00001000.00000000 soit 192.168.8.0.

On donne ci-dessous deux fonctions outils :

```
def ip2liste(ip):
    "Transforme une adresse IP V4 (type str) en liste d'entiers"
    return [int(champ) for champ in ip.split('.')]

def liste2ip(ipliste):
    "Transforme une liste d'entiers en adresse IP V4 (type str)"
    return '.'.join(str(n) for n in ipliste)
```

1. Écrire une fonction de signature `prefixe_reseau(ip, masque)` qui retourne le préfixe réseau sous forme d'adresse IP V4 (type `str`) à partir d'une adresse IP V4 et d'un masque de sous-réseau.
2. Écrire une fonction de signature `suffixe_machine(ip, masque)` qui retourne le suffixe machine sous forme d'adresse IP V4 (type `str`) à partir d'une adresse IP V4 et d'un masque de sous-réseau.

Voici un exemple de résultat attendu :

```
>>> prefixe_reseau('145.245.11.254', '255.255.252.0')
'145.245.8.0'
>>> suffixe_machine('145.245.11.254', '255.255.252.0')
'0.0.3.254'
```



Propriété 4

Python définit également des opérateurs sur les bits d'un nombre, plus efficaces que les opérations mathématiques équivalentes :

- Le décalage de `nombre` de `n` bits vers la gauche multiplie `nombre` par 2^n et s'écrit `nombre << n`.
- Le décalage de `nombre` de `n` bits vers la droite divise `nombre` par 2^n et s'écrit `nombre >> n`.



Exercice 14

Dans l'algorithme de recherche dichotomique, après division en deux de la zone de recherche, l'algorithme s'appelle lui-même sur l'une des deux moitiés. C'est un algorithme de type *Diviser pour régner* qui peut se programmer récursivement comme nous le verrons en terminale dans le chapitre sur la récursivité.

Si on note n la taille de la liste, une autre implémentation, non récursive, est la suivante :

- on commence la recherche au début de la liste et on avance avec un pas $\text{pas} = n // 2$ ou $\text{pas} = n \gg 1$ jusqu'au premier élément supérieur à l'élément cherché ;
- on repart de l'élément précédent le point d'arrêt et on avance désormais avec un pas divisé par 2 soit :

```
pas = pas >> 1 ;
```

- on répète en boucle ces instructions jusqu'à ce que le pas atteigne 1.

A la fin de de la boucle, on détermine si l'élément précédent le dernier point d'arrêt est l'élément recherché.

Compléter le code de la fonction `recherche_dicho2` qui implémente cet algorithme.

```
def recherche_dicho2(L, e):  
    x, n = 0, len(L)  
    pas = n >> 1  
    while pas >= 1:  
        while x + pas < n and .....:  
            x = .....  
        pas = .....  
    return .....
```